



A Zähle vorwärts. Schreibe die Zahlen mit Komma.




B Zähle rückwärts. Schreibe die Zahlen mit Komma.



C Zähle vorwärts und rückwärts. Schreibe die Zahlen mit Komma.



D Schreibe die Zahlen mit Komma an die richtige Stelle. 10,000 / 10,001 / 10,005

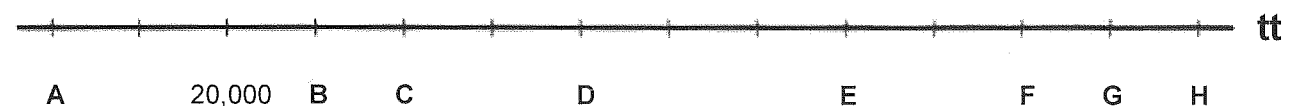
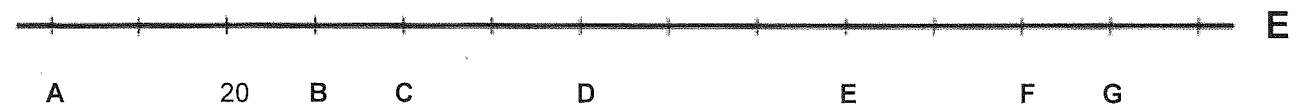


E Schreibe die Zahlen mit Komma an die richtige Stelle. 2,02 / 2,11 / 2,10 / 2,01 / 2,12




F Schreibe die Zahlen mit Komma, welche an der Stelle der Buchstaben stehen.

Schritte:



a) Zähle vorwärts



b) Zähle rückwärts



c) Ergänze die fehlenden Zahlen



d) Trage die Zahlen ein: 10,000 | 10,001 | 10,005



e) Ordne die Zahlen auf dem Zahlenstrahl: 2,02 | 2,11 | 2,10 | 2,01 | 2,12



f) Für welche Zahlen stehen die Buchstaben?

