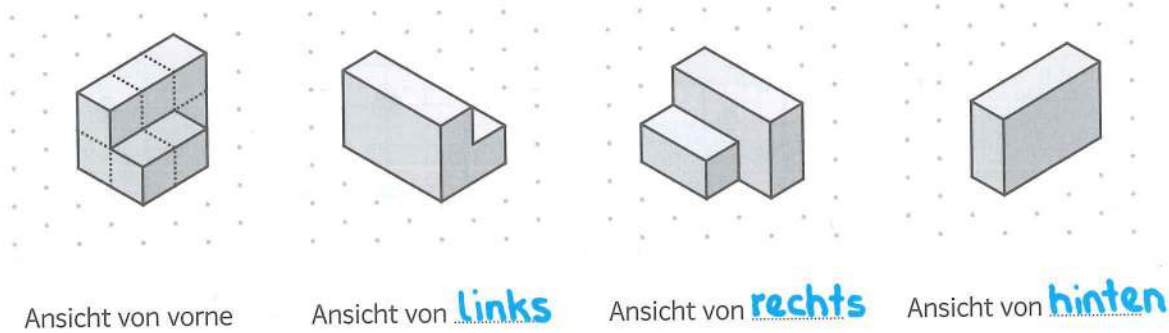


Körper aus Würfeln

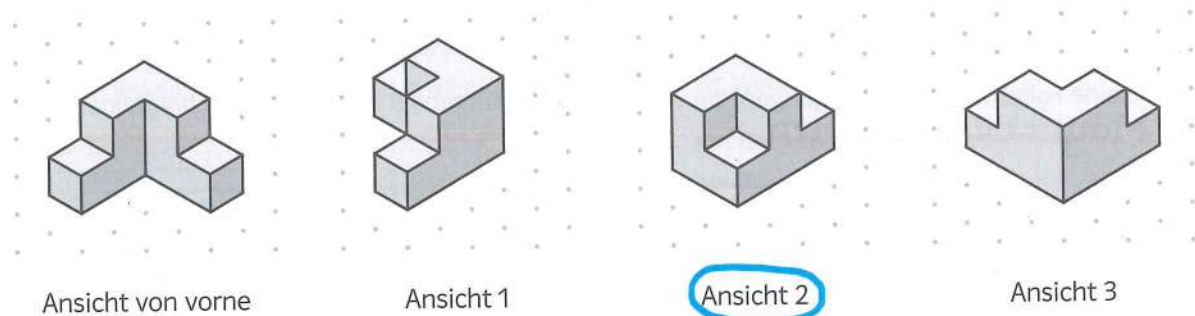
1 Dieser Würfelkörper ist aus 8 Würfeln gebaut.

- A Baue den Körper nach und stelle ihn so vor dich hin, wie du es auf dem Bild siehst.
- B Man kann den gleichen Körper auch von rechts, von links oder von hinten anschauen. Welche Richtung passt zu den 3 Ansichten?



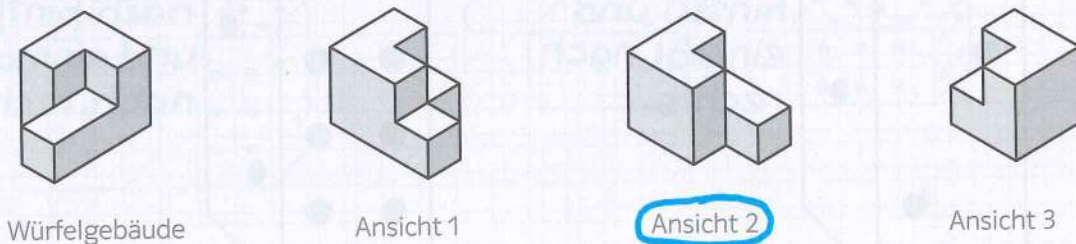
2 Dieser Würfelkörper ist aus 8 Würfeln gebaut.

- A Baue den Würfelkörper nach.
- B Welche Ansicht passt nicht zu diesem Körper?



Würfelgebäude drehen

Das Würfelgebäude (8 Würfeln) wird gedreht. Es gibt genau eine passende Ansicht. Welche Ansicht passt zum Würfelgebäude?



Würfelgebäude vorgeben

Korrekte Ansicht wählen